



Где находится центр треугольника?

Ф.И.О:

КЛАСС:

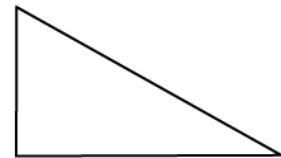
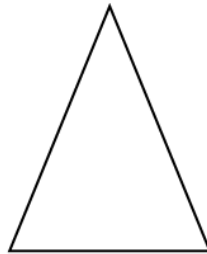
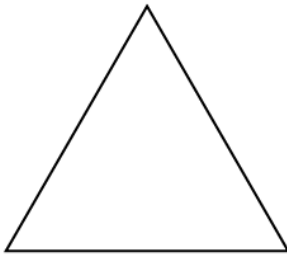
ДАТА:



Базовый уровень

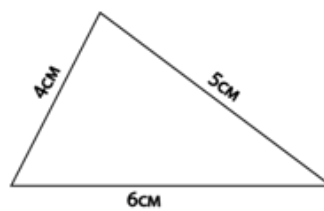
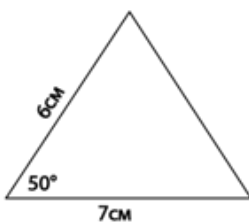
1) Найти названия следующих треугольников:

а)

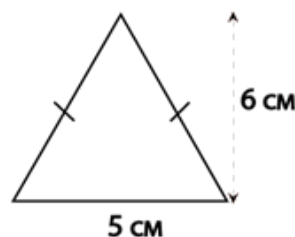
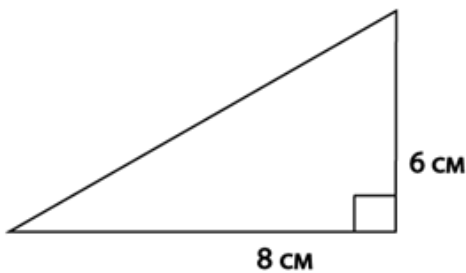


2) Отметьте в каждом треугольнике выше а) равные углы б) равные стороны.

3) Нарисуйте следующие треугольники как можно точнее:



4) Нарисуйте следующие треугольники как можно точнее:





Где находится центр треугольника?

Ф.И.О:

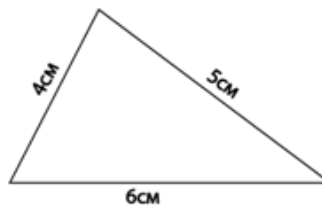
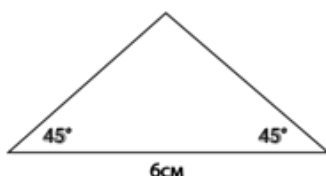
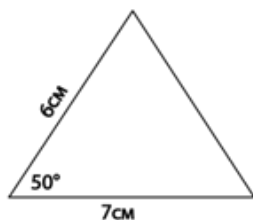
КЛАСС:

ДАТА:

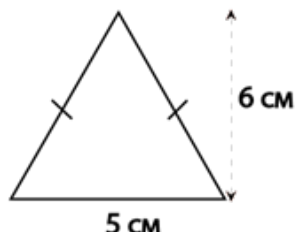
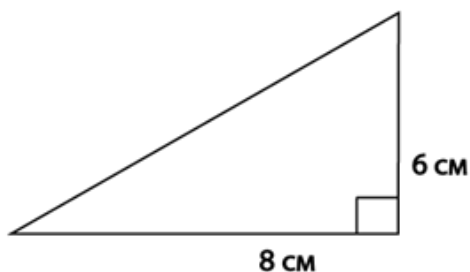


Средний уровень

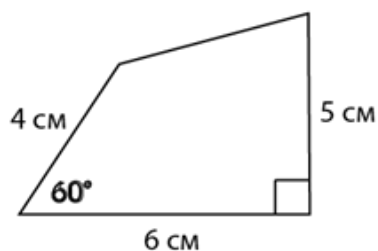
1) Нарисуйте следующие треугольники как можно точнее:



2) Нарисуйте следующие треугольники как можно точнее:



3) Нарисуйте следующую фигуру как можно точнее:





Где находится центр треугольника?

Ф.И.О:

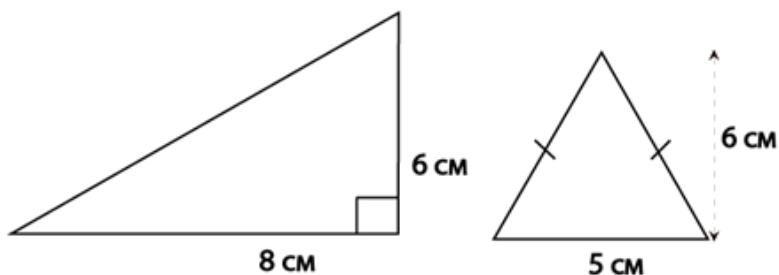
КЛАСС:

ДАТА:

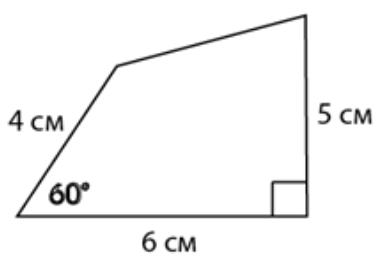


Углубленный уровень

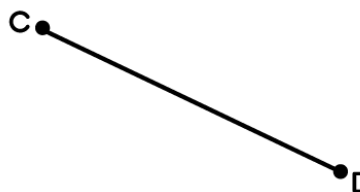
1) Нарисуйте следующие треугольники как можно точнее:



2) Нарисуйте следующую фигуру как можно точнее:



3) Проведите средний перпендикуляр к линиям ниже.

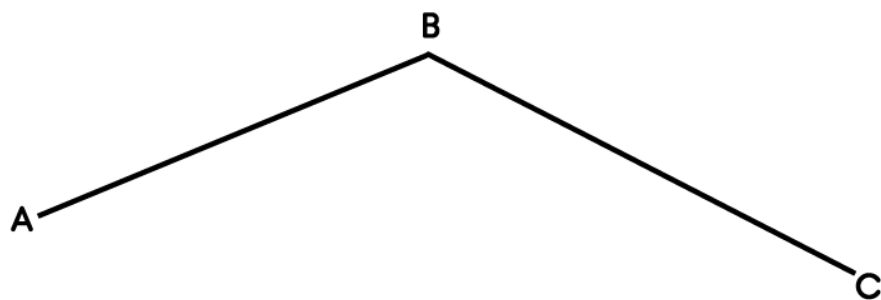
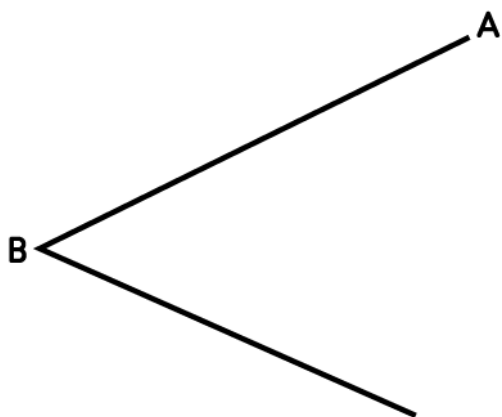




Где находится центр треугольника?

Углубленный уровень

4) Нарисуйте биссектрисы для данных углов.





Где находится центр треугольника?

ОТВЕТЫ

Базовый уровень

1)а) равносторонний

б) равнобедренный

в) прямоугольный

